



Câmara Municipal de Uruguaiana  
CIEE/RS – Centro de Integração Empresa – Escola do Rio Grande do Sul  
Processo Seletivo Simplificado Estágio – **09 de Abril de 2017**  
Nível Médio

Nome:

Curso:

Nº de Inscrição:

Assinatura do Candidato:

### Informações importantes:

- Esta prova contém **40** questões objetivas e terá duração total de **3 horas**;
- Para cada questão existe somente uma alternativa correta;
- Com caneta de tinta azul ou preta, assinale na prova a alternativa que julgar correta e, após, transfira para o “Folha de Respostas”;
- Cuidado no preenchimento da Folha de Respostas, pois não serão substituídas em caso de rasura;
- Não serão computadas as questões não assinaladas na grade e as questões que contenham mais de uma resposta, emenda ou rasuras;
- Ao final você deverá entregar a prova e a Folha de Respostas, retendo a folha “Gabarito” para posterior conferência. A prova deverá estar identificada e preenchida.
- Folha de Respostas sem assinatura e sem os dados do candidato serão considerados nulos;
- Os monitores de sala não esclarecerão dúvidas sobre a prova durante a sua realização

**BOA PROVA!**



---

## LÍNGUA PORTUGUESA

---

### Água de lago australiano se tingiu de rosa

A água de um lago australiano se tingiu de rosa, um fenômeno natural causado pelo alto nível de sal e pelas altas temperaturas, \_\_\_\_\_ seus responsáveis. “O rosa brilhante aparece em quase todos os verões e é provocado por uma planta unicelular conhecida como *Dunaliella* que reage aos níveis extremos de sal no lago”, disse Mark Norman, diretor científico da Parks Victoria, a entidade que administra os parques do estado de Victoria. “É um fenômeno totalmente natural, embora muitas vezes nos digam que parece um acidente industrial com tinta rosa”, acrescentou. O lago, situado no parque Westgate, nos arredores de Melbourne, \_\_\_\_\_ mais de 140 espécies de pássaros e nos últimos dias muitos turistas, que são proibidos de tocar a água rosa para evitar a coceira causada pelo sal.

<http://www.correiodopovo.com.br/Noticias/...> - adaptado.

---

1) As lacunas no texto podem ser CORRETAMENTE preenchidas por:

- a) anunciou - atraí
- b) anunciaram - atraem
- c) anunciaram - atraí
- d) anunciou - atraem

---

2) De acordo com o texto, analisar os itens abaixo:

I - É a planta *Dunaliella*, reagindo com o sal e com as baixas temperaturas, que causa esse efeito cor-de-rosa no lago.

II - Uma das grandes atrações do lago nessa época é a oportunidade dos turistas entrarem no lago cor-de-rosa.

- a) Os itens I e II estão corretos.
- b) Somente o item I está correto.
- c) Somente o item II está correto.
- d) Os itens I e II estão incorretos.

---

3) A palavra “provocado”, na primeira metade do texto, pode ser substituída sem alteração de sentido por:

- a) Incentivado.
- b) Atraído.
- c) Causado.
- d) Alterado.

---

4) Assinalar a alternativa que preenche a lacuna abaixo CORRETAMENTE:

Ele desistiu do curso? \_\_\_\_\_?

- a) Por quê
- b) Por que
- c) Porque
- d) Porquê

---

5) Assinalar a alternativa CORRETA quanto à ortografia:

- a) Dijestão.
- b) Paginação.
- c) Magestade.
- d) Lójica.



6) Quanto às conjunções, assinalar a alternativa que apresenta uma conjunção adversativa:

- a) Nem dá o próximo passo, nem desiste da ideia.
- b) Optou pelo turno da noite, pois o salário era maior.
- c) Sabemos aonde queremos chegar, mas não será fácil.
- d) Não comeu nem falou nada, foi direto para a cama.

---

7) Considerando-se as normas de acentuação, assinalar a alternativa INCORRETA:

- a) Pele.
- b) Jóia.
- c) Análise.
- d) Voo.

---

8) Quanto à polissemia, marcar C para as afirmativas Certas, E para as Erradas e, após, assinalar a alternativa que apresenta a sequência CORRETA:

- ( ) A palavra “cara” é polissêmica em “Cara, isso não vai dar certo.” e “Tenho uma marca de nascença na cara”.
- ( ) A palavra “mão” é polissêmica em “Machuquei minha mão.” e “Sua avó tem uma ótima mão na cozinha”.

- a) C - C.
- b) E - C.
- c) C - E.
- d) E - E.

---

9) Assinalar a alternativa que apresenta a grafia INCORRETA do plural:

- a) Gentil - gentis.
- b) Margem - margens.
- c) Ancião - anciões.
- d) Fiel - fiels.

---

10) Quanto ao uso da vírgula, analisar os itens abaixo:

- I - Marcos você precisa, vir correndo para cá.
- II - Nada era capaz, porém, de atrapalhar seu objetivo.

- a) Os itens I e II estão corretos.
- b) Somente o item I está correto.
- c) Somente o item II está correto.
- d) Os itens I e II estão incorretos.

---

### INFORMÁTICA

---

Atenção! Para responder às questões de Informática, a menos que seja explicitamente informado o contrário, considerar que os programas mencionados encontram-se na versão Português-BR e, em sua configuração padrão de instalação, possuem licença de uso, o mouse está configurado para destros, um clique ou duplo clique correspondem ao botão esquerdo do mouse e teclar corresponde à operação de pressionar uma tecla e, rapidamente, liberá-la, acionando-a apenas uma vez. Dessa forma, as teclas de atalho, os menus, os submenus, as barras, os ícones e os demais itens que compõem os programas abordados nesta prova encontram-se na configuração padrão, conforme exposto anteriormente.

---



**11)** Assinalar a alternativa que preenche a lacuna abaixo CORRETAMENTE:

*Em um computador, o \_\_\_\_\_ é classificado como a parte lógica cuja função é fornecer instruções para o hardware.*

- a) spyware
- b) scanner
- c) sniffer
- d) software

---

**12)** O hardware é a parte que o usuário pode tocar do computador, ou seja, todos os componentes da sua estrutura física. Com base nisso, são exemplos de hardware:

- I - Placa-mãe.
- II - Sistema operacional.
- III - Teclado.

Está(ão) CORRETO(S):

- a) Somente o item III.
- b) Somente os itens I e III.
- c) Somente os itens I e II.
- d) Todos os itens.

---

**13)** No Windows 7 Professional, há uma barra longa horizontal na parte inferior da tela. Diferentemente da área de trabalho, que pode ficar obscurecida devido às várias janelas abertas, essa barra está quase sempre visível. Ela possui três seções principais, a saber:

- O botão Iniciar, que abre o menu Iniciar.
- A seção intermediária, que mostra quais programas e arquivos estão abertos e permite que o usuário alterne rapidamente entre eles.
- A área de notificação, que inclui um relógio e ícones que comunicam o status de determinados programas e das configurações do computador.

O exposto refere-se à barra de:

- a) Ferramentas.
- b) Títulos.
- c) Menus.
- d) Tarefas.

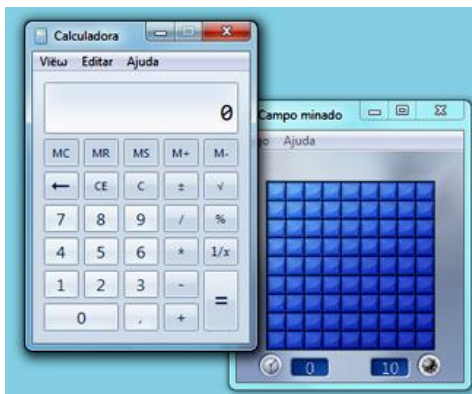
---

**14)** O painel direito do menu Iniciar do Windows 7 Professional contém links para partes do Windows que o usuário provavelmente usará com mais frequência. Com base nisso, as seguintes opções estão disponíveis no painel direito do menu Iniciar, EXCETO:

- a) Caixa de Pesquisa.
  - b) Computador.
  - c) Dispositivos e Impressoras.
  - d) Ajuda e Suporte.
-



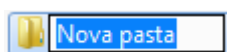
15) Um usuário está com dois programas abertos em sua área de trabalho no Windows 7 Professional, a Calculadora e o Campo minado. De acordo com o fragmento abaixo, a janela da Calculadora está na frente da janela do Campo minado. Isso indica que a Calculadora é a janela:



- a) Principal.
- b) Pop-up.
- c) Ativa.
- d) Anônima.

---

16) A imagem abaixo apresenta uma pasta existente em um computador que possui instalado o Windows 7 Professional. É CORRETO afirmar que essa pasta está pronta para ser:



- a) Excluída.
- b) Copiada.
- c) Renomeada.
- d) Aberta.

---

17) No Word 2007, o usuário pode escolher uma cor para o plano de fundo da página por meio da opção “Cor da Página”, representada pelo botão:

- a)
- b)
- c)
- d)



**18)** No Word 2007, é possível usar as seguintes opções para folhear um documento no modo de exibição Leitura em Tela Inteira:

- I - Clicar nas setas nos cantos inferiores das páginas.
- II - Pressionar Page Down e Page Up ou barra de espaços e Backspace no teclado.
- III - Clicar nas setas de navegação no centro superior da tela.

Estão CORRETOS:

- a) Somente os itens I e II.
- b) Somente os itens I e III.
- c) Somente os itens II e III.
- d) Todos os itens.

---

**19)** Ao inserir números em uma planilha do Excel 2007, talvez o usuário deseje somá-los. Um modo rápido de fazer isso é usar o:

- a) Preencher.
- b) AutoSoma.
- c) Classificar e Filtrar.
- d) Formato de Número de Contabilização.

---

**20)** Assinalar a alternativa que apresenta o sinal que informa ao Excel 2007 que a célula conterá uma fórmula:

- a) =
- b) :
- c) \*
- d) +

---

### MATEMÁTICA

---

**21)** Sabe-se que, em determinada sessão de cinema, dos 300 ingressos disponíveis, apenas 75% foram vendidos. Quantos ingressos foram vendidos, ao todo, para essa sessão de cinema?

- a) 205
- b) 215
- c) 225
- d) 235

---

**22)** Em certo restaurante são servidas 125 refeições em 2 dias. Considerando-se a mesma proporção, quantas refeições serão servidas, ao todo, em 6 dias?

- a) 250
- b) 275
- c) 350
- d) 375



**23)** Considerando-se que em certo estojo há 6 canetas da cor azul, 8 da cor vermelha e 10 da cor preta, analisar os itens abaixo:

- I - A razão entre a quantidade de canetas da cor azul e a quantidade de canetas da cor preta é igual a  $\frac{3}{5}$ .  
II - A razão entre a quantidade de canetas da cor preta e a quantidade de canetas da cor vermelha é igual a  $\frac{5}{4}$ .

- a) Os itens I e II estão corretos.  
b) Somente o item I está correto.  
c) Somente o item II está correto.  
d) Os itens I e II estão incorretos.
- 

**24)** Para realizar certa receita de bolo é necessário colocar a quantidade de açúcar e farinha na proporção de 2:3, ou seja, 2 xícaras de açúcar para 3 xícaras de farinha. Se, ao fazer esse bolo, forem colocadas 12 xícaras de farinha, quantas xícaras de açúcar deverão ser colocadas para que se mantenha a proporção da receita?

- a) 6  
b) 8  
c) 9  
d) 10
- 

**25)** Qual o valor dos juros obtidos do capital de R\$ 1.000,00 aplicado durante 6 meses à taxa de juros simples de 2% ao mês?

- a) R\$ 80,00  
b) R\$ 100,00  
c) R\$ 120,00  
d) R\$ 140,00
- 

**26)** Ao se realizar o pagamento de determinado boleto bancário no valor de R\$ 200,00 dois dias após seu vencimento, foram cobrados juros compostos de 5% ao dia. Com base nessas informações, o valor cobrado referente aos juros foi de:

- a) R\$ 10,00  
b) R\$ 10,50  
c) R\$ 20,00  
d) R\$ 20,50
- 

**27)** Dada a equação  $3x + 54 = 90$ , em que x representa a quantidade de funcionários de certa empresa que utilizam vale transporte, quantos funcionários dessa empresa utilizam vale transporte?

- a) 6  
b) 12  
c) 16  
d) 22
- 

**28)** Considerando-se as raízes da equação  $x^2 - x = 12$ , assinalar a alternativa CORRETA:

- a) Uma das raízes é igual a 3.  
b) Apenas uma das raízes é positiva.  
c) Ambas as raízes são negativas.  
d) Uma das raízes é igual a - 4.
-



29) Considerando-se que, ao final da jornada de trabalho, certo operador de caixa atendeu 48 clientes, qual a quantidade máxima de produtos que esse operador de caixa pode ter registrado, sendo que ele ficou em um caixa destinado a clientes com no máximo 15 produtos?

- a) 576
- b) 624
- c) 672
- d) 720

30) Em determinada prova objetiva, Carlos acertou 7 questões de matemática e obteve 28 pontos. Sabendo-se que todas as questões de matemática possuíam o mesmo peso, quantos pontos Carlos obteria se tivesse acertado somente 5 questões?

- a) 20
- b) 21
- c) 22
- d) 23

---

### CONHECIMENTOS GERAIS

---

31) “Presidente do Senado diz que reformas farão o Brasil crescer.”

<http://exame.abril.com.br/brasil...> - adaptado.

Assinalar a alternativa que apresenta o atual Presidente do Senado:

- a) Renan Calheiros.
- b) Gilmar Mendes.
- c) Eunício Oliveira.
- d) Rodrigo Maia.

32) “Estado do Rio confirma primeira morte por febre amarela. Diante dos resultados, a secretaria informou que vai antecipar a vacinação para 24 municípios estratégicos.”

<http://exame.abril.com.br/brasil...> - adaptado.

A febre amarela é transmitida por:

- a) Aves.
- b) Mosquitos.
- c) Primatas.
- d) Porcos.

33) “Rodrigo Janot pediu que o Supremo Tribunal Federal abra 83 inquéritos contra políticos delatados pelos funcionários da Odebrecht na investigação da Lava Jato.”

<http://brasil.elpais.com/brasil/2017/03/14/politica...> - adaptado.

Rodrigo Janot é o:

- a) Procurador-Geral da República.
  - b) Ministro da Segurança Pública.
  - c) Assessor da Casa Civil.
  - d) Presidente da Câmara dos Deputados.
-





**34)** “O secretário-geral da Organização de Estados Americanos (OEA), Luis Almagro, endureceu o discurso sobre a Venezuela. Depois de meses de fracassos diplomáticos com o Governo de Nicolás Maduro e a piora da situação no país, Almagro atualizou seu relatório sobre a Venezuela, em que solicita a expulsão do país da OEA se não forem celebradas ‘eleições livres, justas e transparentes’ de maneira imediata. Uma possível expulsão cabe ao Conselho Permanente da Organização, cuja presidência atualmente é exercida por Belize.”

<http://brasil.elpais.com/brasil/2017/03/14/internacional...> - adaptado.

A Venezuela é um país que faz parte da:

- a) América do Norte.
- b) Europa.
- c) América do Sul.
- d) América Central.

---

**35)** “A tribo que quer barrar o muro de Trump: Os tohono o’odham lutam para impedir que a barreira fronteiriça atravesse suas terras. Eles chegaram antes que todos e não se darão tão facilmente por vencidos. Uma pequena comunidade indígena do deserto de Sonora abriu uma nova frente contra o muro que Donald Trump pretende construir na fronteira dos Estados Unidos com o país.”

<http://brasil.elpais.com/brasil/2017...> - adaptado.

Considerando-se a notícia acima, é CORRETO afirmar que os Estados Unidos querem construir um muro na fronteira com o:

- a) México.
- b) Canadá.
- c) Panamá.
- d) Caribe.

---

**36)** “BNDES financiará projetos de energia renovável na Amazônia.”

<http://exame.abril.com.br/economia...> - adaptado.

Assinalar a alternativa que NÃO apresenta uma fonte de energia renovável:

- a) Sol.
- b) Vento.
- c) Carvão mineral.
- d) Marés.

---


**37)** “O Presidente Michel Temer sancionou a reforma do Ensino Médio. O texto, que foi aprovado pelo Senado, foi inicialmente colocado em vigor como Medida Provisória (MP). O texto final manteve todos os eixos do original.”

<http://g1.globo.com/educacao/noticia...> - adaptado.

Em relação à reforma do Ensino Médio, marcar C para as afirmativas Certas, E para as Erradas e, após, assinalar a alternativa que apresenta a sequência CORRETA:

- ( ) Com a reforma, somente as disciplinas de português e matemática são obrigatórias.
- ( ) O Ensino Médio passará a ser oferecido pela rede pública e privada somente no turno da noite, a partir de 2018.

- a) C - C.
- b) E - C.
- c) C - E.
- d) E - E.



**38)** O Presidente da Colômbia, Juan Manuel Santos, recebeu recentemente o Prêmio Nobel:

- a) De Economia.
- b) Da Paz.
- c) De Medicina.
- d) De Ciência e Tecnologia.

---

**39)** “Com o título ‘Operação London Bridge: o plano secreto para os dias seguintes à morte da Rainha (Elizabeth II)’, o jornal, ‘The Guardian’, afirma que a resposta do país ao falecimento da monarca, de 90 anos, será ‘monumental’ em comparação ao da princesa Diana, que morreu em um acidente de trânsito em 1997, em Paris.”

<http://exame.abril.com.br/mundo...> - adaptado.

Elizabeth II é a Rainha do(a):

- a) França.
- b) Espanha.
- c) Paquistão.
- d) Reino Unido.

---

**40)** Assinalar a alternativa que preenche a lacuna da notícia abaixo CORRETAMENTE:

*“O especialista da ONU Mulheres Julien Pellaux alertou que, se nada for feito, a paridade salarial entre homens e mulheres vai levar 170 anos para ser alcançada. Em entrevista à ONU News, em Nova York, no dia 08 de março, Dia \_\_\_\_\_, Pellaux disse que as Nações Unidas estão ‘dando início a várias campanhas para promover esse assunto, que na verdade é um assunto político’.”*

<http://guiadoestudante.abril.com.br/blog/atualidades...> - adaptado.

- a) Internacional do Feminismo
- b) Internacional da Mulher
- c) Nacional do Feminismo
- d) Nacional da Mulher